

ශ්‍රී ලංකා විභාග දෙපාර්තමේන්තුව ශ්‍රී ලංකා විභාග දෙපාර්තමේන්තුව ශ්‍රී ලංකා විභාග දෙපාර්තමේන්තුව ශ්‍රී ලංකා විභාග දෙපාර්තමේන්තුව ශ්‍රී ලංකා විභාග දෙපාර්තමේන්තුව
 இலங்கைப் பரீட்சைத் திணைக்களம் இலங்கைப் பரීட்சைத் திணைக்களம் இலங்கைப் பரීட்சைத் திணைக்களம் இலங்கைப் பரීட்சைத் திணைக்களம் இலங்கைப் பரීட்சைத் திணைக்களம்
 Department of Examinations, Sri Lanka Department of Examinations, Sri Lanka Department of Examinations, Sri Lanka Department of Examinations, Sri Lanka Department of Examinations, Sri Lanka
 ශ්‍රී ලංකා විභාග දෙපාර්තමේන්තුව ශ්‍රී ලංකා විභාග දෙපාර්තමේන්තුව ශ්‍රී ලංකා විභාග දෙපාර්තමේන්තුව ශ්‍රී ලංකා විභාග දෙපාර්තමේන්තුව ශ්‍රී ලංකා විභාග දෙපාර්තමේන්තුව
 இலங்கைப் பரීட்சைத் திணைக்களம் இலங்கைப் பரීட்சைத் திணைக்களம் இலங்கைப் பரීட்சைத் திணைக்களம் இலங்கைப் பரීட்சைத் திணைக்களம் இலங்கைப் பரීட்சைத் திணைக்களம்

අධ්‍යයන පොදු සහතික පත්‍ර (උසස් පෙළ) විභාගය, 2018 අගෝස්තු
கல்விப் பொதுத் தராதரப் பத்திர (உயர் தரப் பரீட்சை, 2018 ஆகஸ்ட்)
General Certificate of Education (Adv. Level) Examination, August 2018

2018.08.09/ 0830 - 1030

ව්‍යාපාර අධ්‍යයනය I
 வணிகக் கல்வி I
 Business Studies I



වය දෙකයි
இரண்டு மணித்தியாலம்
Two hours

උපදෙස්:

- * සියලු ම ප්‍රශ්නවලට පිළිතුරු මෙම ප්‍රශ්න පත්‍රයේ ම සපයන්න.
- * විභාග අංකය, ඉහළින් ඇති කොටුවේ පැහැදිලි ව සටහන් කරන්න.
- * ප්‍රශ්න අංක 1 සිට 30 තෙක් වූ ප්‍රශ්නවලට නිවැරදි පිළිතුරු තෝරා, එහි අංකය ප්‍රශ්නය ඉදිරියෙන් ඇති තිත් ඉර මත ලියන්න.
- * ප්‍රශ්න අංක 31 සිට 50 තෙක් වූ ප්‍රශ්නවලට කෙටි පිළිතුරු අදාළ තිත් ඉර මත ලියන්න.
- * සෑම ප්‍රශ්නයකට ම ලකුණු දෙක බැගින් හිමි වේ.

විභාග අංකය :

පරීක්ෂකගේ ප්‍රශ්නපතය සඳහා පමණි.

I පත්‍රය සඳහා		අත්සන	සංකේත අංකය
ප්‍රශ්න අංක	ඉකුණු		
01 - 30		1 වන පරීක්ෂක	
31 - 50		2 වන පරීක්ෂක	
එකතුව		අති. ප්‍රධාන පරීක්ෂක	
		ප්‍රධාන පරීක්ෂක	
		ගණිත පරීක්ෂක	

1. මිනිස් අවශ්‍යතා හා වුවමනා පිළිබඳ නිවැරදි ප්‍රකාශය කුමක් ද?
 - (1) පුද්ගලයෙකුට අවශ්‍යතා අසීමිත ප්‍රමාණයක් ඇති අතර වුවමනා ඇත්තේ සීමිත ප්‍රමාණයක් වේ.
 - (2) ව්‍යාපාරිකයකුට අවශ්‍යතා නිර්මාණය කළ හැකි අතර වුවමනා නිර්මාණය කළ නොහැකි වේ.
 - (3) අවශ්‍යතා පොදුවන අතර වුවමනා පුද්ගලයාගෙන් පුද්ගලයාට වෙනස් වේ.
 - (4) ආදරය, ආහාර, ආරක්ෂාව, කාර්මික අධ්‍යාපනය අවශ්‍යතාවලට නිදසුන් කිහිපයක් වේ.
 - (5) වුවමනා කෘෂිකර්ම කර ගැනීමට පුද්ගලයෙකු යම් නිෂ්පාදිතයක් තෝරා ගැනීම අවශ්‍යතාව වේ. (.....)

2. ඕනෑම සංවිධානයකට පොදු හොඳ ලක්ෂණයක් වන්නේ,
 - (1) සම්පත් භාවිතා කිරීම ය. (2) මිනිස් අවශ්‍යතා හා වුවමනා ඉටු කිරීම ය.
 - (3) භාණ්ඩ හෝ සේවා සැපයීම ය. (4) ලාභ ඉපැයීමේ අභිප්‍රායක් තිබීම ය.
 - (5) රජයේ ප්‍රතිපත්ති හා නීතිරීතිවලට අනුගත වීම ය. (.....)

3. නිෂ්පාදිත වර්ගීකරණයේ ගලායෑම හා එයට අදාළ උදාහරණය නිවැරදිව දක්වා ඇති පිළිතුර කුමක් ද?
 - (1) ස්පාශ්‍ය → භාණ්ඩ → කල් නොපවතින - මෝටර් වාහන
 - (2) ස්පාශ්‍ය → භාණ්ඩ → පාරිභෝගික සේවා - ප්‍රවාහනය
 - (3) අස්පාශ්‍ය → සේවා → සෘජු සේවා - බැංකු
 - (4) අස්පාශ්‍ය → භාණ්ඩ → භාවිතය අනුව - ගෘහ භාණ්ඩ
 - (5) ස්පාශ්‍ය → භාණ්ඩ → භාවිතය අනුව - රක්ෂණය (.....)

4. ව්‍යාපාර පරිසර බලවේග, සාධක හා ඒවායේ බලපෑම නිවැරදිව සඳහන් කර ඇති ප්‍රකාශය කුමක් ද?
 - (1) ව්‍යාපාරයක පරිගණක ක්‍රියාකරුවන් අභ්‍යන්තර සාධකයක් වන අතර ඔවුන්ගේ කුසලතා අඩුකම ව්‍යාපාරයට තර්ජනයක් වේ.
 - (2) තරගකරුවන් වැඩි වීම ව්‍යාපාරයට තර්ජනයක් වන අතර එය ආසන්න බාහිර පරිසර බලවේගයක් වේ.
 - (3) විදේශ විනිමය අනුපාතය පහත වැටීම අපනයනකරුවන්ට අවස්ථාවක් වන අතර එය ආසන්න බාහිර පරිසර බලවේගයක් වේ.
 - (4) මූල්‍ය ආයතන සාර්ව පරිසර බලවේගයක් වන අතර ඔවුන්ගේ දැඩි තරගකාරිත්වය ව්‍යාපාරවලට අවස්ථාවක් වේ.
 - (5) සංවිධාන ව්‍යුහය තුළ සන්නිවේදනය නිසි පරිදි සිදු වීම සංවිධානයට ශක්තියක් වන අතර එය ආසන්න බාහිර පරිසර බලවේගයක් වේ. (.....)

[දෙවැනි පිටුව බලන්න.

5. පාරිභෝගික ආරක්ෂණය තුළින් ලැබෙන ප්‍රතිලාභ කිහිපයක් පහත දැක්වේ.

- A - ගෙවන මුදලට සරිලන වටිනාකමක් ඇති භාණ්ඩ පරිභෝජනය කිරීමට හැකි වීම
- B - පාරිභෝගික විශ්වාසය දිනා ගැනීමට හැකි වීම
- C - භාණ්ඩයේ ප්‍රවර්ධන පිරිවැය අඩු කර ගැනීමට හැකි වීම
- D - භාණ්ඩයේ ප්‍රමිතිය තහවුරු කර ගැනීමට හැකි වීම
- E - විකුණුම් පිරිවැටුම වැඩි කර ගැනීමට හැකි වීම
- F - වෙළෙඳ විෂමාවාර්ථලට එරෙහි වීමට හැකි වීම

ඉහත දෑ අතුරෙන් ව්‍යාපාරිකයකුට පමණක් ලැබෙන ප්‍රතිලාභ ඇතුළත් පිළිතුර කුමක් ද?

- (1) ABC (2) ADF (3) BCE (4) BCF (5) BDF (.....)

6. නිමල් හා කමල් හවුල් ව්‍යාපාරයක් පවත්වාගෙන යන නමුත් ඔවුන් අතර හවුල් ගිවිසුමක් නොතිබුණි. පසුගිය වසරේදී ඔවුන් විසින් යෙදූ ප්‍රාග්ධනයට මෙන්ම අමතරව යෙදූ ණය මුදල්වලට ද 5% ක පොලියක් ලබාගෙන ඇති අතර නිමල් තම මිතුරෙකු වූ සුනිල්ව හුදෙක් සිය කැමැත්ත මත පමණක් හවුල්කරුවෙකු ලෙස සම්බන්ධ කර ගන්නා ලදී. කමල් ප්‍රධාන වීඩියෝ නිලධාරී වශයෙන් තමන්ට දැනට ලැබෙන වැටුප ප්‍රමාණවත් නොවන බව පවසා එය වැඩි කිරීමට ඉල්ලීමක් කර ඇත.

ඉහත සිද්ධියේ දැක්වෙන පරිදි මෙම හවුල් ව්‍යාපාරය හවුල් ව්‍යාපාර ආඥා පනතට අනුව උල්ලංඝනය කර ඇති කොන්දේසි ගණන කොපමණ ද?

- (1) එකකි. (2) දෙකකි. (3) තුනකි. (4) හතරකි. (5) කිසිවක් නැත.(.....)

7. ඇපයෙන් සීමිත සමාගමක ලක්ෂණයක් නොවන්නේ,

- (1) මහජනතාවට කොටස් නිකුත් කිරීමක් සිදු නොකිරීම ය.
- (2) අවම වශයෙන් සාමාජිකයින් දෙදෙනෙකුගේ සිටීම ය.
- (3) ලාභාංශ බෙදාහැරීමක් සිදු නොකිරීම ය.
- (4) ලාභ අභිප්‍රායෙන් ආරම්භ කිරීම ය.
- (5) සමාගම ඇවර කිරීමේදී එක් එක් සාමාජිකයා දායක විය යුතු මුදල සාංගමික ව්‍යවස්ථාවලියේ සඳහන් කිරීම ය. (.....)

8. සමුපකාර සමිතියක් ලියාපදිංචි කිරීමේදී සමුපකාර සංවර්ධන කොමසාරිස් වෙත ඉදිරිපත් කිරීමට අවශ්‍ය නොවන්නේ,

- (1) අතුරු ව්‍යවස්ථාවේ පිටපත් දෙකක් ය.
- (2) යෝජිත ආර්ථික කටයුතුවල යෝග්‍යතා වාර්තාව ය.
- (3) යෝජනා සම්මත වූ වාර්ෂික මහා සභා වාර්තාව ය.
- (4) සමිතිය පිහිටි ස්ථානයට ළඟාවන මාර්ග සිතියම ය.
- (5) ඉල්ලුම් පත්‍රයට අත්සන් තැබූ සාමාජිකයින්ගේ පෞද්ගලික තොරතුරු ය. (.....)

9. සිසිල් විධිමත් සැලසුම්කරණයට වඩා තම හැකියා මත විශ්වාසය තබා ඇති අතර අසීරු කාර්යයක් වුවත් ආරම්භ කර අඛණ්ඩව ක්‍රියාත්මක කරගෙන යාමට හැකියාවක් ඇත්තෙකි. ඔහු ව්‍යාපාරයේ පරමාර්ථ ඉටු කර ගැනීමට නව අදහස් මත කටයුතු කරයි.

ඉහත තොරතුරු අනුව සිසිල් සතු ව්‍යවසායකත්ව නිපුණතා සංඛ්‍යාව,

- (1) 1 කි. (2) 2 කි. (3) 3 කි. (4) 4 කි. (5) 5 කි. (.....)

10. සුළු පරිමාණ ව්‍යාපාර අසාර්ථක වීමට බලපානු ලබන සාධක කිහිපයක් පහත දැක්වේ.

- A - දැඩි තරගකාරීත්වය
- B - නිවැරදිව ගිණුම් පවත්වාගෙන නොයෑම
- C - යටිතල පහසුකම් ප්‍රමාණවත් නොවීම
- D - නිවැරදි සේවකයින් බඳවා නොගැනීම
- E - නව නිෂ්පාදිත කරා යොමු නොවීම
- F - කර්මාන්තයේ නිෂ්පාදන තාක්ෂණය වෙනස් වීම
- G - ව්‍යාපාර කාර්යඵල විශ්ලේෂණය නොකිරීම
- H - රජයේ බදු සහන අඩු කිරීම

ඉහත දෑ අතුරෙන් සුළු පරිමාණ ව්‍යවසායකයකුට පාලනය කළ හැකි සාධක පමණක් ඇතුළත් පිළිතුර කුමක් ද?

- (1) ACEH (2) ACFH (3) BCDG (4) BDEF (5) BDEG (.....)

[තුන්වැනි පිටුව බලන්න.

11. මෙහි දැක්වෙන වගුවේ X තීරුව මගින් විවිධ මුදල් වර්ග ද, Y තීරුව මගින් ඊට අදාළ නිදසුන් කිහිපයක් ද දැක්වේ. මුදල් වර්ග හා උදාහරණ නිවැරදිව ගලපා ඇති කාණ්ඩය තෝරන්න.

- (1) A-1, B-3, C-2, D-4, E-5
- (2) A-2, B-4, C-3, D-1, E-5
- (3) A-2, B-1, C-4, D-3, E-5
- (4) A-5, B-3, C-4, D-1, E-2
- (5) A-5, B-1, C-4, D-3, E-2

X	Y
A. විද්‍යුත් මුදල්	1. භාණ්ඩාගාර බිල්පත
B. ආසන්න මුදල්	2. රත්‍රං
C. ව්‍යවහාර මුදල්	3. ඉල්ලුම් තැන්පත්
D. බැංකු මුදල්	4. කාසි හා නෝට්ටු
E. ද්‍රව්‍ය මුදල්	5. ණය කාඩ්පත්

(.....)

12. වාණිජ බැංකුවක් මගින් ලබාගත හැකි ප්‍රතිලාභ හා පහසුකම් කිහිපයක් පහත දැක්වේ.

- A - පොලියක් ලබා ගැනීමට හැකි වීම
- B - වෙක්පත් තැන්පත් කිරීමට හැකි වීම
- C - නිත්‍ය නියෝග මත ගෙවීම් කළ හැකි වීම
- D - ණයපත් ලබා ගැනීමට හැකි වීම
- E - අයිරා පහසුකම් ලබා ගැනීමට හැකි වීම

ඉහත දෑ අතුරින් ඉතිරිකිරීමේ ගිණුම් හිමියෙකුට ලබා ගත හැකි ප්‍රතිලාභ හා පහසුකම් ගණන,

- (1) 1 කි. (2) 2 කි. (3) 3 කි. (4) 4 කි. (5) 5 කි. (.....)

13. බණ්ඩාර ඔහුගේ මෝටර් රථය සඳහා තෙවෙනි පාර්ශ්ව රක්ෂණයක් ලබා ගෙන තිබුණි. ඔහුගේ පුතා විසින් එම වාහනය පදවාගෙන යන අවස්ථාවකදී එය නිවසක වැදී වාහනයටත් එම නිවසටත් අලාභහානි සිදු වූ අතර පුතාට ද කුලාල සිදු විය.

ඉහත සිද්ධිය අනුව රක්ෂණ වන්දි ලබාගත හැකි වන්නේ,

- (1) වාහනයට පමණි. (2) නිවසට පමණි. (3) පුතාට පමණි.
- (4) වාහනයට හා නිවසට පමණි. (5) නිවසට හා පුතාට පමණි. (.....)

14. බිමල් කථා පැවැත්වීමට කැමති අයෙකි. ඔහුගේ කථා සාමාන්‍යයෙන් දිගු ය. ඔහු කථාවේදී බැඳරුම් වචන පාවිච්චි කරන අතර සමහර විට පුද්ගලයින්ට ද අපහාස කරයි. ඔහු තමාගේ මතය දැඩි විශ්වාසයකින් ඉදිරිපත් කරන නමුත් ඇතැම් තොරතුරු සාවද්‍ය වේ. කෙසේ වුවත් ඔහුගේ කථා විලාසය සිත් ඇදගන්නා පුළුල් ය.

ඉහත විස්තර අනුව බිමල් විසින් කඩකරන්නා වූ සඵලදායී සන්නිවේදනයක ගුණාංග සංඛ්‍යාව,

- (1) 1 කි. (2) 2 කි. (3) 3 කි. (4) 4 කි. (5) 5 කි. (.....)

15. පහත වගුවේ X තීරුවේ විද්‍යුත් මාධ්‍ය හරහා කරනු ලැබූ ව්‍යාපාර ක්‍රියාකාරකම් කිහිපයක් ද, Y තීරුවේ විද්‍යුත් වෙළෙඳ ආකෘති කිහිපයක් ද දැක්වේ.

X	Y
A - ආගමන විගමන දෙපාර්තමේන්තුව විදේශ ගමන් බලපත් සඳහා ඉල්ලුම් පත් භාර ගැනීම	1. B2 C
B - M සමාගම S සමාගමට සහල් තොග අලෙවි කිරීම	2. C2 C
C - ගුවන් ගමන් නියෝජිතයෙකු විසින් සමන්ට ගුවන් විකට්පතක් අලෙවි කිරීම	3. B2 G
D - සීමාසහිත A සමාගම රාජ්‍ය සංස්ථාවකට පරිගණක සැපයීම	4. G2 C
E - R විසින් තමාගේ ඉඩම D නමැති පුද්ගලයාට විකිණීම	5. B2 B

විද්‍යුත් ව්‍යාපාර ක්‍රියාකාරකම් හා විද්‍යුත් වෙළෙඳ ආකෘති නිවැරදි ලෙස ගලපා ඇති පිළිතුර තෝරන්න.

- (1) A-1, B-3, C-2, D-4, E-5 (2) A-2, B-4, C-3, D-1, E-5
- (3) A-3, B-5, C-1, D-4, E-2 (4) A-4, B-5, C-1, D-3, E-2
- (5) A-5, B-4, C-1, D-2, E-3

(.....)

16. කළමනාකරණයට හා කළමනාකරණ ක්‍රියාවලියේ කාර්යයන්ට (functions) අදාළ මඬන් නිවැරදි ප්‍රකාශය තෝරන්න.

- (1) කිසියම් ගැටලුවකට ගනු ලැබූ නිශ්චිත විසඳුමක් ක්‍රියාත්මක කිරීමේ ක්‍රියාවලිය 'කළමනාකරණය' වේ.
- (2) ආයතනයක පරමාර්ථ හා අරමුණු ඉටු කර ගැනීමට ගනු ලබන පියවර ක්‍රියාත්මක කිරීමේ ක්‍රියාවලිය 'සැලසුම්කරණය' වේ.
- (3) ආයතනයක පරමාර්ථ හා අරමුණු ඉටුකර ගැනීමට සම්පත් බෙදාහැරීමේ ක්‍රියාවලිය 'සංවිධානකරණය' වේ.
- (4) ආයතනයක පරමාර්ථ හා අරමුණු ඉටුකර ගැනීම සඳහා සේවකයින්ට බලපෑම් කිරීමේ ක්‍රියාවලිය 'මෙහෙයවීම' වේ.
- (5) ආයතනයක පරමාර්ථ හා අරමුණු ඉටුකර ගන්නා ආකාරයට, සැලසුම්ගත හා සත්‍ය ප්‍රතිඵල අතර වෙනස්කම් නිවැරදි කිරීමට පියවර ගැනීමේ ක්‍රියාවලිය 'පාලනය' වේ.

(.....)

[හතරවැනි පිටුව බලන්න.

23. පහත දැක්වෙන්නේ මූල්‍ය අනුපාත කිහිපයක් ගණනය කරනු ලබන ආකාර වේ.

A - ආයෝජන මත ප්‍රතිලාභ අනුපාතය = $\frac{\text{බදු පසු ශුද්ධ ලාභය} + \text{පොලිය}}{\text{ස්ථාවර වත්කම්}} \times 100$

B - හිමිකම් ප්‍රාග්ධනය මත ප්‍රතිලාභ අනුපාතය = $\frac{\text{බදු පසු ශුද්ධ ලාභය} + \text{වරණීය ලාභාංශ}}{\text{හිමිකම් ප්‍රාග්ධනය}} \times 100$

C - මුළු වත්කම් පිරිවැටුම් අනුපාතය = $\frac{\text{විකුණුම්}}{\text{මුළු වත්කම්}}$

D - ණයගැති පිරිවැටුම් අනුපාතය = $\frac{\text{විකුණුම්}}{\text{සාමාන්‍ය ණයගැතියෝ}}$

E - ජංගම අනුපාතය = $\frac{\text{ජංගම වත්කම්}}{\text{ජංගම වගකීම්}}$

ඉහත දෑ අතුරින් නිවැරදිව ගණනය කර ඇති අනුපාත ගණන,

- (1) 1 කි. (2) 2 කි. (3) 3 කි. (4) 4 කි. (5) 5 කි. (.....)

24. පහත වගුවේ X තීරුව මගින් කොළඹ කොටස් හුවමාරුවේ ගනුදෙනු වන සුරැකුම්පත් වර්ග කිහිපයක් ද, Y තීරුව මගින් ඒවා සඳහා ලැබෙන ප්‍රතිලාභ ද දැක්වේ.

X	Y
A. සාමාන්‍ය කොටස්	1. ප්‍රාග්ධන ලාභ ලබා ගැනීමට හැකි වීම
B. වරණීය කොටස්	2. ස්ථිර පොලී ප්‍රතිශතයක් හිමි වීම
C. කොටස් බලපත්‍ර	3. සමාගමේ අයිතිය හිමි වීම
D. සාංගමික ණයකර	4. ආයෝජනයට වැඩි ආරක්ෂාවක් ලැබීම
E. රජයේ ණය සුරැකුම්පත්	5. ස්ථිර ලාභ ප්‍රතිශතයක් ලැබීම

සුරැකුම්පත් වර්ග හා ප්‍රතිලාභ නිවැරදිව ගලපා ඇති පිළිතුර තෝරන්න.

- (1) A-1, B-3, C-2, D-4, E-5 (2) A-3, B-2, C-1, D-5, E-4
 (3) A-3, B-5, C-1, D-2, E-4 (4) A-2, B-3, C-1, D-5, E-4
 (5) A-4, B-5, C-2, D-1, E-3 (.....)

25. මානව සම්පත් කළමනාකරණයට අදාළ වඩාත් නිවැරදි ප්‍රකාශය තෝරන්න.

- (1) නිශ්චිත අරමුණක් ඉටු කිරීම සඳහා ආයතනයේ වැඩ ඒකකවලට බෙදීම රැකියා නිර්මාණය වේ.
 (2) රැකියාවක ලක්ෂණ පිළිබඳව ක්‍රමානුකූල අධ්‍යයනයක් කිරීම රැකියා විශ්ලේෂණය වේ.
 (3) සේවකයකුගේ සුදුසුකම් විස්තර කෙරෙන ප්‍රකාශය රැකියා විස්තරය වේ.
 (4) කිසියම් රැකියාවක් තුළ පවතින ගුණාංග විස්තර කෙරෙන ප්‍රකාශය රැකියා පිරිවිතරය වේ.
 (5) රැකියා පිරිවිතරය හා රැකියා විස්තරය සකස් කිරීමට පදනම් වන්නේ රැකියා විශ්ලේෂණය වේ. (.....)

26. සේවක ආකර්ෂණ ක්‍රම තුළින් ඇති විය හැකි වාසි හා අවාසි කිහිපයක් පහත දැක්වේ.

- A - සේවකයින් අභිප්‍රේරණය වීම
 B - සේවකයින් රඳවා ගැනීමට පහසු වීම
 C - ආකර්ෂණ පිරිවැය අඩු වීම
 D - නව දැනුම ආයතනයට ලබා ගැනීමට හැකි වීම
 E - සේවකයන් අතර තරගයක් ඇති වීම
 F - විශාල අයදුම්පත් සංඛ්‍යාවක් ලබා ගැනීමට හැකි වීම
 G - සේවක කැපවීම වැඩි වීම
 H - සේවක අනුස්ථාපන පුහුණු වියදම් වැඩි වීම

ඉහත දෑ අතුරින් අභ්‍යන්තර ආකර්ෂණය මගින් විය හැකි වාසි පමණක් ඇතුළත් පිළිතුර තෝරන්න.

- (1) ABCG (2) ACDG (3) BCGH (4) CEFH (5) DEFH (.....)

27. ගුවන් නියමුවකු ලෙස පුහුණුවන්නකුට ප්‍රායෝගික පුහුණුව ලබා දීම සඳහා වඩාත් ම යෝග්‍ය පුහුණු කිරීමේ ක්‍රමය වන්නේ,

- (1) දේශන හා සාකච්ඡා ය. (2) සමාකරණ පුහුණුව ය. (3) සීමාවාසික පුහුණුව ය.
 (4) භූමිකා රංගනය ය. (5) ආධුනික පුහුණුව ය. (.....)

28. පහත වගුවේ X තීරුව මගින් තොරතුරු පද්ධතියක උපාංග ද Y තීරුව මගින් ඊට අදාළ නිදසුන් ද දැක්වේ.

X	Y
A. දෘඪාංග	1. සේවක අර්ථසාධක අරමුදල් ලිපි ගොනුව
B. මෘදුකාංග	2. පරිගණක ක්‍රියාකරු
C. ජීව්‍යාංග	3. ක්‍රියාකාරී පද්ධතිය
D. දත්ත	4. අනුමත කළ දත්ත පමණක් ඇතුළත් කිරීම
E. ක්‍රියාපටිපාටි	5. යතුරු පුවරුව

උපාංග හා නිදසුන් නිවැරදිව ගළපා ඇති පිළිතුර තෝරන්න.

- (1) A-1, B-3, C-2, D-4, E-5 (2) A-2, B-4, C-5, D-3, E-1
 (3) A-3, B-1, C-4, D-2, E-5 (4) A-5, B-3, C-1, D-4, E-2
 (5) A-5, B-3, C-2, D-1, E-4 (.....)

29. විද්‍යුත් (ඉලෙක්ට්‍රොනික්) තාක්ෂණය උපයෝගී කරගත් ව්‍යාපාර සම්බන්ධව දැක්වෙන නිවැරදි ප්‍රකාශය කුමක් ද?

- (1) විද්‍යුත් ව්‍යාපාර විද්‍යුත් වාණිජයේ උපකුලකයකි.
 (2) විද්‍යුත් වාණිජය හා විද්‍යුත් අලෙවිකරණය යනු එකම දෙයකි.
 (3) විද්‍යුත් ව්‍යාපාර හා විද්‍යුත් වාණිජය අතර සම්බන්ධයක් නැත.
 (4) විද්‍යුත් වාණිජය හා විද්‍යුත් ව්‍යාපාර යනු එකම දෙයකි.
 (5) විද්‍යුත් වාණිජය හා විද්‍යුත් අලෙවිකරණය විද්‍යුත් ව්‍යාපාරයේ උපකුලක වේ. (.....)

30. ව්‍යාපාර සැලසුමක අංගයක් නිවැරදිව විස්තර කෙරෙන ප්‍රකාශය තෝරන්න.

- (1) තරගකාරී හා වෙළඳපොළ අත්පත් කර ගැනීමේ (විනිවිදයාමේ) උපායමාර්ග අඩංගු වන්නේ නිෂ්පාදන සැලැස්මෙහි ය.
 (2) අවශ්‍ය සම්පත් ප්‍රමාණය හා නිෂ්පාදන ප්‍රමිති අඩංගු වන්නේ මෙහෙයුම් සැලැස්මෙහි ය.
 (3) අවශ්‍ය මානව සම්පත අඩංගු වන්නේ මූල්‍ය සැලැස්මෙහි ය.
 (4) අවශ්‍ය සියලු ම ඇස්තමේන්තුගත තොරතුරු අඩංගු වන්නේ අලෙවි සැලැස්මෙහි ය.
 (5) ව්‍යාපාර උපායමාර්ග හා සංවිධාන ව්‍යුහය විස්තර කෙරෙන්නේ මානව සම්පත් සැලැස්මෙහි ය. (.....)

● අංක 31 සිට 40 තෙක් ප්‍රශ්නවලට පිළිතුරු සැපයීමේදී සුදුසු වචන යොදා හිස්තැන් පුරවන්න.

31. (අ) ශ්‍රම විභජනයෙහි ප්‍රතිඵලයක් ලෙස පුද්ගල ඇති වන අතර අතිරික්ත නිෂ්පාදන හුවමාරුව කුලීන් බිහි වේ.

(ආ) අයිතිකරුවන්ගේ වටිනාකම් හා විශ්වාසය මත සංවිධාන ගොඩනැගෙන අතර එහි නොගැළපීම සංවිධානයට වේ.

32. (අ) තිරසාර සංවර්ධනය මූලික කරගත් ව්‍යාපාර ආයතන විසින් ලාභය මෙන් ම හා පිළිබඳව ද සැලකිලිමත් විය යුතු ය.

(ආ) නිෂ්පාදනයේ සිට බෙදාහැරීම දක්වා ඇති සෑම අදියරේදී ම වර්ධක අගය මත අය කරන බදු වන අතර සේවා නියුක්තිකයෙකුගේ පාරිශ්‍රමිකය (ලාභය) මත අය කරන බදු වේ.

33. (අ) කේවල ස්වෘමි ව්‍යාපාරයක හිමිකරු ට තනිව මුහුණ දෙන අතර ව්‍යාපාරයේ මත බදු ගෙවයි.

(ආ) හවුල්කරුවන්ට ව්‍යාපාරයේ වෙළෙඳ කටයුතුවලට සහභාගිවීමේ ඇති අතර ව්‍යාපාර කටයුතුවලට උනන්දුවෙන් සහභාගිවීමේ ද ඇත.

34. (අ) අවදානමක් දරමින් ඇති කරන පුද්ගලයා ව්‍යවසායකයකු වන අතර ඔහු සෑම විටම නොවේ.

(ආ) බලපත්‍රලාභී වාණිජ බැංකුවලට මුදල් හැකි අතර මුදල් කළ නොහැකි ය.

35. (අ) රක්ෂණ ගිවිසුමක ක්‍රියාකාරීත්වය තුළින් මතුවන බාහිර පක්ෂය පාර්ශ්වය වන අතර සේවයේ යෙදී සිටියදී සේවකයින්ට සිදුවන අනතුරු සඳහා වන්දි ගෙවීමට සේවය පක්ෂය විසින් ලබා ගන්නා රක්ෂණය..... රක්ෂණය වේ.

(ආ) ප්‍රවාහන පද්ධතියට අයත් මූලිකාංග අතුරෙන් මූලිකාංගයට වරාය අයත් වන අතර දුම්රිය මාර්ගය මූලිකාංගයට අයත් වේ.

36. (අ) අදහසක් කිසියම් පණිවුඩයකට පරිවර්තනය කිරීමේ ක්‍රියාවලිය නමින් හඳුන්වන අතර පණිවුඩලාභියා විසින් එම අදහස පරිවර්තනය කරගන්නා ක්‍රියාවලිය වේ.

(ආ) මූල්‍ය සැලසුම්කරණය හා පාලනයේදී අයවැය හා අයවැය භාවිත වේ.

37. (අ) 'කළමනාකරණය' යන්න ගතික ව්‍යාපාර තුළ ව්‍යාපාරයේ අරමුණු සඵලදායීව හා කාර්යක්ෂමව ඉටු කර ගැනීමට ආයතනයේ..... මෙහෙයවීම ලෙස හැඳින්විය හැකි ය.

(ආ) අධිකාරිය මත නීත්‍යානුකූලව ලැබෙන බලයක් වන අතර විශේෂඥ බලය මත ලැබෙන්නකි.

38. (අ) අවම තොග මට්ටම = මට්ටම - (සාමාන්‍ය තොග භාවිතය X සාමාන්‍ය)

(ආ) මුදල් ගෙවා අපොද්ගලිකව භාණ්ඩ හා සේවා ප්‍රවර්ධනය කිරීම වන අතර ඉලක්ක කරගත් ගනුදෙනුකරුවන් පෙළඹවීම සඳහා කරනු ලබන කෙටිකාලීන දිරිගැන්වීමේ වැඩසටහන් වේ.

39. (අ) දත්ත ඒවයේ ලක්ෂණ අනුව වෙන් කර ගැනීම වන අතර අදහස් ඇති කර ගත හැකි පරිදි එම දත්ත කෙටිකර ඉදිරිපත් කිරීම..... වේ.

(ආ) සැලසුම් සකස් කිරීමේදී විකුණුම් ප්‍රමාණය ඇස්තමේන්තු කිරීම පුරෝකථනයට ඇතුළත් වන අතර යන්ත්‍ර උපකරණ අවශ්‍යතා සැලැස්මට අයත් වේ.

40. පහත සඳහන් වගන්තිවල සත්‍ය හෝ අසත්‍ය බව සඳහන් කරන්න.

- | | සත්‍ය/අසත්‍ය |
|--|--------------|
| 1. දැනට සිටින සාමාන්‍ය කොටස්ගිම්මියන්ට මුදල් අයකර කොටස් ලබාදීම ප්‍රසාද කොටස් නිකුතුව වේ. | |
| 2. මුදල් අය කිරීමෙන් තොරව ලබාදෙන කොටස්, ගිම්කම් නිකුතුව වේ. | |
| 3. සිය අයිතීන් රැකගැනීමට වෘත්තීය සමිති කළමනාකාරීත්වය සමග සාකච්ඡා කිරීම සාමූහික කේවල් කිරීම වේ. | |
| 4. සාමූහික කේවල් කිරීමේ ක්‍රියාවලියකින් පසු යම්කිසි ආරවුලක් සම්බන්ධව සේවා සේවක දෙපාර්ශ්වය අතර ඇති කරගන්නා එකඟතාව සාමූහික ගිවිසුම වේ. | |

● අංක 41 සිට 50 තෙක් ප්‍රශ්නවලට නියමිත පිළිතුරු සපයන්න.

41. පහසු භාණ්ඩවල ගුණාංග හතරක් ලියන්න.

1. 2.
3. 4.





42. ඇල්මැති පාර්ශ්වකරුවෙකු ලෙස රජය, පාසල් කෙරෙහි අවධානය යොමු කිරීමට බලපාන හේතු හතරක් ලියන්න.

1. 2.
3. 4.

43. පාරිභෝගිකයා සතු වගකීම් හතරක් සඳහන් කරන්න.

1. 2.
3. 4.

[අවම වශයෙන් පිටු 08 ගන්න.

44. විද්‍යුත් (ඉලෙක්ට්‍රොනික්) ගෙවීම් පහසු කිරීම සඳහා ඇති පහසුකම් හතරක් ලියන්න.
1.
 2.
 3.
 4.
45. වෙස්පන් ලිවීමේදී සැලකිල්ලට ගත යුතු කරුණු හතරක් ලියන්න.
1. 2.
 3. 4.
46. ජාත්‍යන්තර වෙළඳාමෙහි වර්ධනයට බලපා ඇති කරුණු හතරක් ලියන්න.
1.
 2.
 3.
 4.
47. පාලන ක්‍රියාවලියක් ආයතනයකට වැදගත් වන හේතු හතරක් ලියන්න.
1.
 2.
 3.
 4.
48. සන්නමකින් යුතුව භාණ්ඩ වෙළෙඳපොළට ඉදිරිපත් කිරීමෙන් නිෂ්පාදකයෙකුට ලැබෙන වාසි හතරක් ලියන්න.
1.
 2.
 3.
 4.
49. සාමාන්‍ය කොටස් හිමියෙකු වෙත ලාභාංශවලට අමතරව සමාගමකින් ලැබෙන ප්‍රතිලාභ හතරක් ලියන්න.
1. 2.
 3. 4.
50. පහත සඳහන් සංකේතවලින් අදහස් කෙරෙන්නේ කුමක් ද?
1. 
 2. 
 3. 
 4. 

ශ්‍රී ලංකා විභාග දෙපාර්තමේන්තුව
 இலங்கைப் பரீட்சைத் திணைக்களம்

අ.පො.ස. (උ.පෙළ) විභාගය/ ක.පො.ත. (උ.පෙළ) (උ.පෙළ) (උ.පෙළ) පරීட்சை - 2018

විෂය අංකය
 பாட இலக்கம்

32

විෂය
 பாடம்

ව්‍යාපාර අධ්‍යයනය

ලකුණු දීමේ පටිපාටිය/புள்ளி வழங்கும் திட்டம்
 I පත්‍රය/பத்திரம் I

ප්‍රශ්න අංකය வினா இல.	පිළිතුරු අංකය விடை இல.	ප්‍රශ්න අංකය வினா இல.	පිළිතුරු අංකය விடை இல.	ප්‍රශ්න අංකය வினா இல.	පිළිතුරු අංකය விடை இல.
01.	3	11.	5	21.	3
02.	4	12.	3	22.	2
03.	3	13.	2	23.	2
04.	2	14.	4	24.	3
05.	3	15.	4	25.	5
06.	3	16.	5	26.	1
07.	4	17.	3	27.	2
08.	5	18.	4	28.	5
09.	4	19.	1	29.	5
10.	5	20.	1	30.	2

❖ විශේෂ උපදෙස්/ விசேட அறிவுறுத்தல் :

එක් පිළිතුරකට/ ஒரு சரியான விடைக்கு 02 ලකුණු/புள்ளி வீதம்

මුළු ලකුණු/மொத்தப் புள்ளிகள் 2 × 30 = 60

- 31. අ. විශේෂීකරණය, වෙළෙඳාම
ආ. සංස්කෘතිය, දුර්වලතා
- 32. අ. පුද්ගලයින්/ සමාජය, පරිසරය / විශ්වය (People , Plannet)
ආ. එකතු කළ අගය මත බදු (VAT) , උපයන විට ගෙවීම් බදු (PAYE)
- 33. අ. අවදානම, ආදායම
ආ. අයිතිවාසිකම, යුතුකම/ වගකීම
- 34. අ. නව්‍යතා, ව්‍යාපරිකයෙකු / කළමනාකරුවෙකු
ආ. මැවීමට/ මැවීම කළ, නිකුත්ව/ නිකුත් කිරීම
- 35. අ. තෙවන, සේවායෝජක වගකීම්/ සේවා වගකීම්
ආ. පර්යන්තය, මාර්ග
- 36. අ. ආකේතනය, විකේතනය
ආ. මුදල්, ප්‍රාග්ධන
- 37. අ. පරිසරය, සම්පත්
ආ. තනතුර, පුද්ගලයා
- 38. අ. යළි ඇණවුම් , ඇණවුම් කාලය
ආ. ප්‍රචාරණය, විකුණුම් ප්‍රවර්ධනය/ ප්‍රවර්ධනය/ පාරිභෝගික විකුණුම් ප්‍රවර්ධනය
- 39. අ. වර්ගීකරණය, සාරාංශකරණය
ආ. විකුණුම්, මෙහෙයුම්
- 40. 1. අසත්‍ය
2. අසත්‍ය
3. සත්‍ය
4. සත්‍ය
- 41. 1. සුලභතාව
2. අඩු මිල/ අඩු ලාභාන්තිකය
3. ප්‍රචාරණ ආකර්ශනය

- 4. පැවැත්ම කෙටි කාලීන වීම
- 5. අඩු ප්‍රමාණයන්ගෙන් මිල දී ගැනීම
- 6. කෙටි කාලීන ගැණුම් තීරණ
- 7. නිතර නිතර මිලදී ගැනීම
- 8. විකල්ප බහුලව පැවතීම
- 9. පහසුවෙන් මිලදී ගත හැකි වීම
- 10. පුරුද්දට මිලදී ගැනීම

- 42.
- 1. අධ්‍යාපන ප්‍රමිතීන් ආරක්‍ෂා කිරීමට
 - 2. ළමයින්ගේ අධ්‍යාපන අයිතීන් තහවුරු කිරීමට
 - 3. පාසල් පද්ධතියේ විනය ආරක්‍ෂා කිරීමට
 - 4. සමාජ සංවර්ධනය සඳහා
 - 5. අධ්‍යාපන ප්‍රමිතීන් සංවර්ධනය
 - 6. අධ්‍යයන හා අනධ්‍යයන සේවක අයිතීන් තහවුරු කිරීමට
 - 7. අධ්‍යාපන පරිපාලනය සඵලදායී කිරීමට හා සම්පත් භාවිතය කාර්යක්‍ෂම කිරීමට

- 43.
- 1. විචාරාත්මක දැනුවත් භාවය
 - 2. සක්‍රීය සහභාගීත්වය
 - 3. සමාජය ගැන සැලකිලිමත් වීම
 - 4. පරිසරය ගැන සැලකිලිමත් වීම
 - 5. සහයෝගීතාව


- 44.
- 1. ස්වයංක්‍රීය ටෙලර් යන්ත්‍ර (ATM/ CDM)
 - 2. වෙළෙඳසැල් ගෙවීම් විද්‍යුත් පැවරුම් ජාල (EFT POS)
 - 3. ටෙලි බැංකු පහසුකම් (Tele Banking)
 - 4. අන්තර්ජාල බැංකු කටයුතු (Internet Banking)

- 45.
- 1. ලිවීමේ දී නොමැකෙන තීන්ත වර්ගයක් භාවිත කළ යුතුය.
 - 2. පිලිපතෙහි අදාළ විස්තර සටහන් කළ යුතුය
 - 3. ලිවීමේ දී සිදුවන වැරදි තනි ඉරකින් කපා අත්කරුගේ සම්පූර්ණ අත්සන යෙදිය යුතුය
 - 4. අත්කරුගේ අත්සන නියමාකාරයෙන් යෙදිය යුතුය.

5. වෙක්පතට යොදන දිනය හා ආරක්‍ෂාව පිළිබඳ ව සැලකිලිමත් විය යුතු ය.
 6. හිස් වෙක්පත් සඳහා අත්සන නොයෙදිය යුතුය
 7. වටිනාකම ඉලක්කමෙන් හා අකුරෙන් ලිවීමේ දී වැඩි හිස්තැන් නොකබන්න
- 46.
1. ගෝලීයකරණය
 2. තාක්‍ෂණික හා සන්නිවේදන දියුණුව
 3. වෙළෙඳ බාධක අවම වීම
 4. වෙළෙඳ ගිවිසුම් හා ජාත්‍යන්තර වෙළෙඳ සංවිධාන බිහි වීම
 5. ලෝකයේ විවිධ ජාතීන් අතර ආකල්ප හා වර්ගවත් වල වෙනස්කම් අවම වීම
- 47.
1. නිෂ්පාදිතයේ ගුණත්වය ආරක්‍ෂා කරගැනීමට
 2. පිරිවැය අවම කර ගැනීමට
 3. වැරදි අවම කර ගැනීමට හෝ ශුන්‍ය මට්ටමකට ගෙන ඒමට
 4. පරිසරයේ වෙනස්වීම්වලට අනුව ගැලපීමට
 5. ආයතනයේ ප්‍රගතිය නිරීක්‍ෂණයට සහ වැරදි නිවැරදි කිරීමට
 6. ආයතනයේ කාර්ය සාධනය අපේක්‍ෂිත මට්ටමින් සිදුවන බව තහවුරු කර ගැනීමට
 7. විචලනයන් ක්‍ෂණිකවම හඳුනාගෙන නිවැරදි කිරීමේ ක්‍රියාමාර්ග වලට අවතීරණ වීම පහසු වීම
- 48.
1. අනෙකුත් තරඟකාරී සන්නිවේදන තම ආයතනයේ සන්නිවේදන වෙන් කොට ප්‍රවර්ධනය කළ හැකි වීම
 2. ඇණවුම් ලබා ගැනීමේ පහසුව
 3. නීතිමය ආරක්‍ෂාව
 4. පාරිභෝගිකයන් අතර සන්නිවේදන ප්‍රවණතාවයක් ඇති කරගත හැකි වීම
 5. හොඳ සන්නිවේදන මගින් ආයතනයේ සමස්ත ප්‍රතිරූපය වැඩි කර ගත හැකි වීම
 6. ව්‍යාපාරයට සන්නිවේදන වටිනාකමක් නිර්මාණය වීම
 7. සන්නිවේදන පාරිභෝගික මනසෙහි ස්ථාපිත කළ හැකි වීම

1. හිමිකම් නිකුතුව
492. ප්‍රාග්ධනලාභ
3. සංචිත ප්‍රාග්ධනීකරණය
4. ඡන්ද බලය හිමිවීම
5. ඇප සුරැකුම් ලෙස භාවිත කළ හැකි වීම

1. මුහුණුපොත (Face book)
502. ටවිටර් (Twitter)
3. ප්‍රතිචක්‍රීකරණය (Recycling)
4. විශේෂ අවශ්‍යතා ඇති පුද්ගලයන් සඳහා පහසුකම් ඇති බව



උසස් පෙළ සඳහා ග්‍රන්ථ නාමාවලිය

(අ.පො.ස) උසස් පෙළ 12-13 ශ්‍රේණි - කෙටි සටහන් සිංහල මාධ්‍ය

විද්‍යා - ගණිත

- 12 සාමාන්‍ය තොරතුරු තාක්ෂණය
- 12-13 රසායන විද්‍යාව - 1
- 12-13 රසායන විද්‍යාව - 2
- 12-13 රසායන විද්‍යාව - 3
- 12-13 රසායන විද්‍යාව - 4
- 12-13 රසායන විද්‍යාව - 5
- 12-13 භෞතික විද්‍යාව - 1
- 12-13 භෞතික විද්‍යාව - 2
- 12-13 භෞතික විද්‍යාව - 3
- 12-13 භෞතික විද්‍යාව - 4
- 12-13 භෞතික විද්‍යාව - 5
- 12-13 ජීව විද්‍යාව - 1
- 12-13 ජීව විද්‍යාව - 2
- 12-13 ජීව විද්‍යාව - 3
- 12-13 ජීව විද්‍යාව - 4
- 12-13 ජීව විද්‍යාව - 5
- 12-13 ජීව විද්‍යාව - 6 (ක්‍රියාකාරී මානවයා)
- 12-13 ජීව විද්‍යාව - 7 (ක්‍රියාකාරී ශාකය)
- 12-13 කෘෂි විද්‍යාව - 1
- 12-13 කෘෂි විද්‍යාව - 2
- 12-13 කෘෂි විද්‍යාව - 3
- 12-13 කෘෂි විද්‍යාව - 4

ව්‍යාපාරික

- 12 ගිණුම්කරණය
- 13 ගිණුම්කරණය
- 12 ව්‍යාපාර අධ්‍යයනය
- 13 ව්‍යාපාර අධ්‍යයනය
- 12 ආර්ථික විද්‍යාව
- 13 ආර්ථික විද්‍යාව - 1
- 13 ආර්ථික විද්‍යාව - 2

කලා

- 12 සිංහල
- 13 සිංහල
- 12 දේශපාලන විද්‍යාව
- 13 දේශපාලන විද්‍යාව
- 12 ශ්‍රී ලංකා ඉතිහාසය
- 13 ශ්‍රී ලංකා ඉතිහාසය
- 12 ඉන්දියානු ඉතිහාසය
- 13 ඉන්දියානු ඉතිහාසය
- 12 භූගෝල විද්‍යාව
- 13 භූගෝල විද්‍යාව
- 12 බෞද්ධ ශිෂ්ටාචාරය
- 13 බෞද්ධ ශිෂ්ටාචාරය
- 12 සන්නිවේදන හා මාධ්‍ය අධ්‍යයනය
- 13 සන්නිවේදන හා මාධ්‍ය අධ්‍යයනය

Grade 12-13 - Short Notes

English Medium

- 12 Accounting
- 13 Accounting
- 12 Business Studies
- 13 Business Studies
- 12 Economics

12-13 ශ්‍රේණි - ප්‍රශ්නෝත්තර

සිංහල මාධ්‍ය

- සාමාන්‍ය දැනීම
- 12 ගිණුම්කරණය - 1
- 12 ව්‍යාපාර අධ්‍යයනය
- 12 ආර්ථික විද්‍යාව

සියලු ම ශ්‍රේණි සඳහා කෙටි සටහන් සහ ප්‍රශ්න පත්‍ර පොත් අප සතුව තිබෙන අතර, මෙම ඕනෑම ග්‍රන්ථයක් වට්ටම් සහිත ව ඔබේ නිවසට ම ගෙන්වා ගත හැකි ය.